

Übungsblatt 4 - Musterlösungen

Technische Hochschule Mittelhessen, Mathematik 1 für EI, Prof. Dr. B. Just

Aufgabe 1

a.) $z(z - w) = (2 + 3j) \cdot (2 + 3j - (-1 + 2j)) = (2 + 3j) \cdot (3 + j) = 6 + 3j^2 + 9j + 2j = 6 - 3 + 11j = 3 + 11j$

b.) $\operatorname{Re}(z^* \cdot w) = \operatorname{Re}((2 - 3j) \cdot (-1 + 2j))$
 $= \operatorname{Re}((-2 - 6j^2 + 3j + 4j))$
 $= \operatorname{Re}((-2 + 6 + 7j)) \quad \text{weil } j^2 = -1$
 $= \operatorname{Re}(4 + 7j) = 4$

c.)

$$\frac{z}{w^*} = \frac{(2 + 3j)}{-1 - 2j} = \frac{(2 + 3j) \cdot (-1 + 2j)}{(-1 - 2j) \cdot (-1 + 2j)} = \frac{-2 - 3j + 4j + 6j^2}{1^2 + 2^2} = \frac{-8 + j}{5} = -\frac{8}{5} + \frac{1}{5}j$$

d.)

$$\begin{aligned} \operatorname{Im}\left(\frac{z^2}{w}\right) &= \operatorname{Im}((2 + 3j) \cdot (2 + 3j) \cdot \frac{-1 - 2j}{(-1)^2 + (-2)^2}) \\ &= \operatorname{Im}((4 - 9 + 6j + 6j) \cdot \left(\frac{-1 - 2j}{5}\right)) \\ &= \operatorname{Im}\left(\frac{(-5 + 12j)(-1 - 2j)}{5}\right) \\ &= \operatorname{Im}\left(\frac{5 - 24j^2 - 12j + 10j}{5}\right) = \operatorname{Im}\left(\frac{29}{5} - \frac{2}{5}j\right) = -\frac{2}{5} \end{aligned}$$

e.) $w^*(z - j) = (-1 - 2j)(2 + 3j - j)$
 $= (-1 - 2j)(2 + 2j)$
 $= -2 - 4j^2 - 4j - 2j$
 $= -2 + 4 - 6j = 2 - 6j$

f.) $|z - w^*| = |2 + 3j - (-1 - 2j)|$
 $= |2 + 3j + 1 + 2j| = |3 + 5j|$
 $= \sqrt{3^2 + 5^2} = \sqrt{9 + 25} = \sqrt{34}$

g.)

$$\left|\frac{1}{w} + \frac{1}{5}\right| = \left|\frac{-1 - 2j}{(-1)^2 + (-2)^2} + \frac{1}{5}\right| = \left|\frac{-1 - 2j}{1 + 4} + \frac{1}{5}\right| = \left|\frac{-1 - 2j}{5} + \frac{1}{5}\right| = \left|-\frac{1}{5} - \frac{2}{5}j + \frac{1}{5}\right| = \left|-\frac{2}{5}j\right| = \frac{2}{5}$$

Aufgabe 2

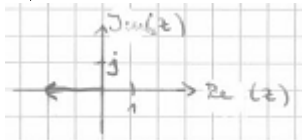
Es sei in polarer Darstellung: $z = |z| \cdot e^{j\varphi_z}$, $w = |w| \cdot e^{j\varphi_w}$ mit Winkeln φ_z, φ_w

$$\begin{aligned} \text{a.) } (z \cdot w)^* &= (|z| \cdot e^{j\varphi_z} \cdot |w| \cdot e^{j\varphi_w})^* \\ &= (|z| \cdot |w| \cdot e^{j(\varphi_z + \varphi_w)})^* \\ &= (|z| \cdot |w| \cdot e^{-j(\varphi_z + \varphi_w)}) \\ &= |z| \cdot e^{-j\varphi_z} \cdot |w| \cdot e^{-j\varphi_w} = z^* \cdot w^* \end{aligned}$$

$$\begin{aligned} \text{b.) } |z \cdot w| &= ||z| \cdot e^{j\varphi_z} \cdot |w| \cdot e^{j\varphi_w}| \\ &= |z| \cdot |w| \cdot |e^{j(\varphi_z + \varphi_w)}| \text{ reelle Zahlen vor den Betrag ziehen} \\ &= |z| \cdot |w| \text{ weil } |e^{j\varphi}| = 1 \text{ f\u00fcr alle } \varphi \end{aligned}$$


Aufgabe 3

a.) $z = -2$



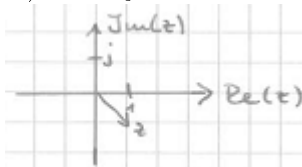
$$\varphi = 180^\circ = \pi; |z| = 2 \Rightarrow z = 2 \cdot e^{j\pi}$$

b.) $z = -j$



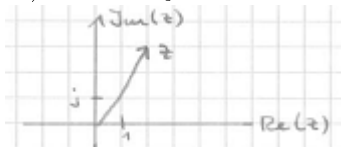
$$\varphi = -\frac{\pi}{2}; |z| = 1 \Rightarrow z = e^{-j\frac{\pi}{2}}$$

c.) $z = 1 - j$



$$|z| = \sqrt{2}; \varphi = -\frac{\pi}{4} \Rightarrow z = \sqrt{2} \cdot e^{-j\frac{\pi}{4}} \text{ (oder } z = \sqrt{2}e^{j\frac{7}{4}})$$

d.) $z = 2 + 3j$



$$\begin{aligned} |z| &= \sqrt{2^2 + 3^2} = \sqrt{4 + 9} = \sqrt{13} \text{ (Pythagoras); } \varphi = \arctan \frac{3}{2} \approx 0,98 \\ \Rightarrow z &= \sqrt{13} \cdot e^{j \cdot 0,98} \end{aligned}$$

e.) Konjugiert komplex zu d. $\Rightarrow z = \sqrt{13} \cdot e^{-j \cdot 0,98}$

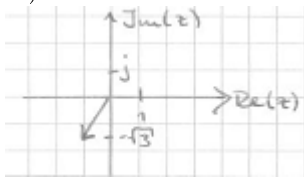
$$\begin{aligned} \text{f.) } (\sqrt{3} + j) \cdot (2 + 2\sqrt{3}j) &= \sqrt{3} \cdot 2 - 2 \cdot \sqrt{3} + 2j + 2 \cdot \sqrt{3} \cdot \sqrt{3}j = 2j + 6j = 8j \\ |z| &= 8, \varphi = 90^\circ \hat{=} \frac{\pi}{2} \Rightarrow z = 8 \cdot e^{j\frac{\pi}{2}} \end{aligned}$$

Aufgabe 4

- a.) $z = a + bj$ mit $a = 2 \cdot \cos(30^\circ)$ und $b = 2 \cdot \sin(30^\circ)$,
also $a = 2 \cdot \sqrt{3}/2 = \sqrt{3} \approx 1,732$ und $b = 2 \cdot 1/2 = 1$,
somit $z = \sqrt{3} + j \approx 1,732 + j$.
- b.) $z = a + bj$ mit $a = \cos(200^\circ)$ und $b = \sin(200^\circ)$,
also $a \approx -0,9397$ und $b \approx -0,342$,
somit $z \approx -0,9397 - 0,342j$.
- c.) $z = a + bj$ mit $a = 5 \cdot \cos(-\pi/3)$ und $b = 5 \cdot \sin(-\pi/3)$,
also $a = 5 \cdot 1/2 = 2,5$ und $b = 5 \cdot (-\sqrt{3}/2) \approx -4,33$,
somit $z \approx 2,5 - 4,33j$.
- d.) $z = a + bj$ mit $a = 1,5 \cdot \cos(2\pi/3)$ und $b = 1,5 \cdot \sin(2\pi/3)$,
also $a = 1,5 \cdot (-1/2) = -0,75$ und $b = 1,5 \cdot (\sqrt{3}/2) \approx 1,299$,
somit $z \approx -0,75 + 1,299j$.

Aufgabe 5

a.)



$$z = -1 - \sqrt{3}j \Rightarrow |z| = \sqrt{1^2 + \sqrt{3}^2} = \sqrt{1+3} = 2$$

$$\varphi = \pi + \arctan \sqrt{3} = \pi + \frac{\pi}{3} = \frac{4\pi}{3}$$

$$\text{Somit: } z = 2 \cdot e^{j \cdot \frac{4\pi}{3}}$$

$$\text{Also: } z^8 = 2^8 \cdot e^{j \cdot \frac{32\pi}{3}} = 256 \cdot e^{j \cdot \frac{32\pi}{3}} = 256 \cdot e^{j \cdot \frac{2\pi}{3}}$$

(Periodizität von 2π , daher ist es erlaubt, im Exponenten 10π abzuziehen.)

b.) Alternative 1:

$$(1-j)^{16} = ((1-j) \cdot (1-j))^8 = (1-2j-1)^8 = (-2j)^8 = 256.$$

Alternative 2: Laut Aufgabe 3c ist $1-j = \sqrt{2} \cdot e^{-j\pi/4}$, also

$$(1-j)^{16} = \sqrt{2}^{16} \cdot e^{-16j\pi/4} = 256 \cdot e^{-8j\pi} = 256$$

weil $-8j\pi$ ein ganzzahliges Vielfaches von 2π ist.

$$\text{c.) } (\sqrt{2}e^{j\pi/4})^9 = \sqrt{2}^9 \cdot e^{j9\pi/4} = \sqrt{2}^9 \cdot e^{j\pi/4}$$

$$\text{d.) } (3 \cdot e^{j45^\circ})^4 = 3^4 \cdot e^{j \cdot 4 \cdot 45^\circ} = 81 \cdot e^{j \cdot 180^\circ} \quad (\text{genau, ist } -81 \text{ :-})$$

Aufgaben 6

a.)

Zeiger Anfangszustand y_1 ist $2 \cdot e^{j\frac{\pi}{2}}$

Zeiger Anfangszustand y_2 ist $1 \cdot e^{j\frac{\pi}{3}}$

b.) Der Zeiger ist $z = 2 \cdot e^{j\frac{\pi}{2}} + e^{j\frac{\pi}{3}}$

Gesucht ist seine Darstellung in Polarform.

Dazu: $z = 2 \cdot e^{j\frac{\pi}{2}} + e^{j\frac{\pi}{3}}$

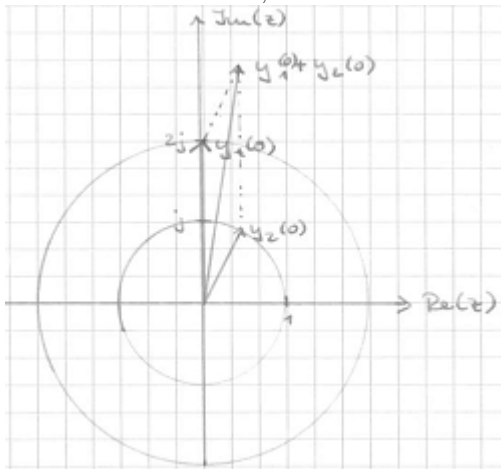
$$= 2 \cdot (\cos(\frac{\pi}{2}) + j \cdot \sin(\frac{\pi}{2})) + \cos(\frac{\pi}{3}) + j \cdot \sin(\frac{\pi}{3})$$

$$= 2 \cdot 0 + 2 \cdot j \cdot 1 + 0,5 + j = 0,5 + j \cdot 2,866$$

Damit: $|z| = \sqrt{0,5^2 + 2,866^2} \approx \sqrt{0,25 + 8,21} \approx 2,9$

Der Winkel φ , den z mit der positiven x- Achse einschließt, ist

$$\varphi = \arctan(\frac{2,866}{0,5}) \approx \arctan(5,73) \approx 1,4 \hat{=} 80,1^\circ$$



c.)

Die harmonische Schwingung $y_1(x) + y_2(x)$ hat die Gestalt $2,9 \cdot \sin(3x + 1,4)$.